



# Concurso Público

para Provimento de Cargos



## Economista

### INSTRUÇÕES

- 1 Identifique-se na **parte inferior** desta capa. Caso se identifique em qualquer outro local deste Caderno, você será excluído do Concurso.
- 2 Este Caderno contém, respectivamente, **uma** proposta de Redação, **trinta questões** de Conhecimentos Específicos e **dez questões** de Conhecimentos de Informática.
- 3 Verifique se o Caderno está completo e sem imperfeições gráficas que possam dificultar a leitura. Detectado algum problema, comunique-o, imediatamente, ao Fiscal.
- 4 Na **Redação**, você será avaliado **exclusivamente** por aquilo que escrever dentro do espaço destinado ao texto definitivo.
- 5 Cada questão de múltipla escolha apresenta **apenas uma opção de resposta correta**.
- 6 Escreva de modo legível. Dúvida gerada por grafia ou rasura implicará redução de pontos.
- 7 Você dispõe de, no máximo, **três horas** para elaborar, em caráter definitivo, a Redação, responder às questões de múltipla escolha e preencher a Folha de Respostas.
- 8 O preenchimento da Folha de Respostas é de sua inteira responsabilidade.
- 9 Antes de retirar-se definitivamente da Sala, **devolva** ao Fiscal **este Caderno** e a **Folha de Respostas**.

### Identificação do candidato

Nome (completo, em letra de forma)	Nº da Inscrição

Nº da Turma	Assinatura









- 01.** Deduzindo-se do Produto Interno Bruto a preços de mercado a renda líquida enviada ao exterior, obtém-se o
- A) Produto Nacional Líquido a preço de mercado.
  - B) Produto Interno Bruto a custo de fatores.
  - C) Produto Nacional Bruto a preço de mercado.
  - D) Produto Interno Líquido a custo de fatores.
- 02.** O *déficit* no saldo do Balanço de Transações Correntes de um determinado país indica a ocorrência de
- A) Poupança Externa Negativa em termos reais, que gera, em contrapartida, uma redução no nível de endividamento do país.
  - B) Poupança Externa Positiva em termos reais, que gera, em contrapartida, um aumento no nível de endividamento do país.
  - C) Poupança Externa Negativa em termos reais, sem que se verifique qualquer alteração no nível de endividamento do país.
  - D) Poupança Externa Positiva em termos reais, sem que se verifique qualquer alteração no nível de endividamento do país.
- 03.** Considere o modelo IS-LM. Se as autoridades monetárias adotarem uma política monetária expansionista, provocarão um deslocamento da
- A) curva LM para a direita e para baixo, o que, dada a curva IS, resultará em queda da taxa de juros e aumento da renda.
  - B) curva IS para a direita e da curva LM para a direita e para baixo, o que resultará em queda da taxa de juros e aumento da renda.
  - C) da curva IS para a esquerda, o que, dada a curva BP, resultará em queda da taxa de juros e redução da renda.
  - D) da curva LM para a esquerda e para cima e da curva IS para a esquerda, o que resultará em aumento da taxa de juros e redução da renda.
- 04.** A taxa de câmbio relevante para determinar os fluxos comerciais entre os países é
- A) a taxa de câmbio real, que considera a taxa de câmbio nominal e os índices de preço apenas dos produtos estrangeiros.
  - B) a taxa de câmbio nominal, que desconsidera a taxa de câmbio real e os índices de preço apenas dos produtos nacionais.
  - C) a taxa de câmbio real, que considera a taxa de câmbio nominal e os índices de preço dos produtos nacional e estrangeiro.
  - D) a taxa de câmbio nominal, que desconsidera a taxa de câmbio real e os índices de preço dos produtos nacional e estrangeiro.

- 05.** Considere o modelo IS-LM-BP em uma economia pequena, com livre mobilidade de capital e regime de câmbio fixo puro. A adoção de uma política fiscal expansionista resultará na
- A)** elevação do nível de renda e redução na taxa de juros.
  - B)** elevação do nível de renda, com taxa de juros constante.
  - C)** manutenção do nível de renda, com taxa de juros constante.
  - D)** manutenção do nível de renda e elevação na taxa de juros.
- 06.** Determinado país opera com um regime de câmbio fixo puro. Caso se verifique uma entrada excessiva de divisas em um dado período, seu Banco Central deverá
- A)** vender divisas para promover uma valorização da taxa de câmbio que favoreça as importações.
  - B)** vender moeda estrangeira em volume suficiente para evitar que a taxa de câmbio se desvie do nível estabelecido por essa Instituição.
  - C)** comprar divisas para promover uma desvalorização da taxa de câmbio que favoreça as exportações.
  - D)** comprar a moeda estrangeira em volume suficiente para evitar que a taxa de câmbio se desvie do nível estabelecido por essa Instituição.
- 07.** A curva de Phillips, na versão aceleracionista, mostra que a manutenção da taxa de desemprego abaixo da taxa natural exige taxas de expansão monetária
- A)** constantes, que resultam no aumento dos níveis de inflação.
  - B)** crescentes, que resultam no aumento dos níveis de inflação.
  - C)** crescentes, que resultam na redução dos níveis de inflação.
  - D)** constantes, que resultam na redução dos níveis de inflação.
- 08.** Considere a função de demanda de um bem normal. O efeito de uma variação do preço sobre a quantidade demandada desse produto pode ser expressa por
- A)** uma curva de demanda negativamente inclinada, independente dos preços dos demais produtos e da renda dos consumidores.
  - B)** um deslocamento da curva de demanda negativamente inclinada, independente dos preços dos demais produtos e da renda dos consumidores.
  - C)** uma curva de demanda negativamente inclinada, desde que os preços dos demais produtos e a renda dos consumidores se mantenham constantes.
  - D)** um deslocamento da curva de demanda negativamente inclinada, com os preços dos demais produtos e a renda dos consumidores mantidos constantes.

09. Suponha a existência de um produto que se caracterize por ter demanda inelástica. Caso se verifique um aumento no seu preço, pode-se esperar que os consumidores tenham uma despesa total
- A) mais elevada com seu consumo, enquanto seus produtores tenham uma receita total mais elevada com sua venda.
  - B) menor com seu consumo, enquanto seus produtores tenham uma receita total mais elevada com sua venda.
  - C) mais elevada com seu consumo, enquanto seus produtores tenham uma receita total mais baixa com sua venda.
  - D) menor com seu consumo, enquanto seus produtores tenham uma receita total menor com sua venda.
10. Considere a produção de um bem X por uma firma que utiliza, como único fator de produção variável, a quantidade de mão-de-obra. Espera-se que o produto total cresça a taxas
- A) decrescentes no curto prazo e, posteriormente, aumente a taxas crescentes e atinja o nível máximo devido à produtividade marginal crescente da mão-de-obra.
  - B) constantes, pois, enquanto a firma for capaz de empregar mão-de-obra adicional, poderá assegurar a manutenção de sua produtividade marginal.
  - C) constantes, pois, no curto prazo, não existe qualquer restrição ao aumento do produto e da produtividade da mão-de-obra.
  - D) crescentes e, posteriormente, a taxas decrescentes, atinja o nível máximo e caia em função da produtividade marginal decrescente da mão-de-obra.
11. O conceito de “isoquanta” supõe que diferentes combinações de insumos
- A) são capazes de gerar o mesmo nível de produção e que a taxa marginal de substituição técnica revela os ajustes que precisam ser feitos sobre o estoque de capital para que o resultado seja alcançado.
  - B) geram diferentes níveis de produção e que a taxa marginal de substituição técnica revela os ajustes que precisam ser feitos sobre o estoque de capital para que se possa passar de um volume de produção para outro.
  - C) são capazes de gerar o mesmo nível de produção e que a taxa marginal de substituição técnica mostra a quantidade pela qual um insumo pode ser trocado por outro sem que o nível do produto seja modificado.
  - D) geram diferentes níveis de produção e que a taxa marginal de substituição técnica mostra a quantidade pela qual um insumo pode ser trocado por outro para que o nível do produto possa ser modificado.
12. A função “demanda” de um determinado bem depende de diversas variáveis. Considerando que os valores das elasticidades da demanda do bem  $x$ , em relação ao seu preço, ao preço do bem  $y$  e da renda, sejam dados, respectivamente, por  $E_{q_x, p_x} = -1,2$ ;  $E_{q_x, p_y} = -1,6$ ; e  $E_{q_x, R} = 0,8$ , pode-se, então, afirmar que
- A) os bens  $x$  e  $y$  são substitutos,  $x$  é um bem saciado e sua procura é inelástica em relação às variações de seu preço.
  - B) os bens  $x$  e  $y$  são complementares,  $x$  é um bem inferior e sua procura é inelástica em relação às variações de seu preço.
  - C) os bens  $x$  e  $y$  são substitutos,  $x$  é um bem normal e sua procura é elástica em relação às variações de seu preço.
  - D) os bens  $x$  e  $y$  são complementares,  $x$  é um bem normal e sua procura é elástica em relação às variações de seu preço.

13. No longo prazo, a curva de custo médio da empresa pode ser representada por uma envoltória das curvas de custo médio de curto prazo. No seu formato em U, a presença de
- A) economias de escala ocorre à medida que o tamanho da empresa cresce e os seus custos decrescem.
  - B) economias de escala ocorre quando a produção cresce com custos constantes.
  - C) deseconomias de escala ocorre à medida que o tamanho da empresa diminui e os custos decrescem.
  - D) deseconomias de escala ocorre quando a produção diminui com custos constantes.
14. O mercado competitivo é caracterizado pela presença de um grande número de pequenas firmas, que não têm condições de fixar preço. Supondo a condição de maximização de lucro nesse mercado, a firma terá, no curto prazo,
- A) prejuízo, se o custo médio estiver acima do preço de mercado.
  - B) lucro, se o custo variável médio e o custo médio forem maiores do que o custo marginal.
  - C) prejuízo, se o custo variável médio e o custo médio estiverem abaixo do preço de mercado.
  - D) lucro, se o custo médio for maior do que o custo marginal.
15. Considere o quadro abaixo, que mostra a freqüência dos rendimentos, em termos de salários mínimos, pagos aos funcionários da Companhia Mar Azul.

Rendimentos, em termos de salários mínimos, dos funcionários da Companhia Mar Azul

Número de salários mínimos	Freqüência
1	4
2	5
3	7
10	2

Fonte: Companhia Mar Azul

Em termos de salários mínimos, o valor modal dos rendimentos da Companhia Mar Azul é:

- A) 10
  - B) 1
  - C) 2
  - D) 3
16. É correto afirmar que a medida de posição média aritmética
- A) corresponde ao valor mais representativo das observações, pois aparece maior número de vezes.
  - B) ocupa o centro da série de observações que esteja ordenada de forma crescente ou decrescente.
  - C) costuma ser fortemente afetada pelo comportamento dos valores extremos das observações.
  - D) considera a freqüência dos valores na série de observações e atribui pesos para eles.



17. Nos últimos cinco anos, a Companhia Terra Verde emitiu títulos de dívida pelos quais pagou uma taxa de juros média de 10%, com variância de 4%. O desvio-padrão foi de:
- A) 3,0%
  - B) 2,0%
  - C) 4,0%
  - D) 6,0%
18. Considere os produtos  $x_1$  e  $x_2$ . No período  $t = 0$  (base), as quantidades adquiridas desses produtos foram, respectivamente, 15 e 20. Seus respectivos preços eram R\$ 4,00 e R\$ 3,00. No período  $t = 1$ , os preços mudaram, respectivamente, para R\$ 6,00 e R\$ 5,00, e as quantidades adquiridas dos respectivos produtos passaram a ser 10 e 35. De acordo com esses dados, o índice de preço de *Laspeyres* indicará um aumento de:
- A) 54,05%
  - B) 58,33%
  - C) 56,41%
  - D) 62,07%
19. A Organização Mundial de Comércio (OMC)
- A) é uma organização intergovernamental, com personalidade jurídica internacional própria, que tem como uma de suas funções criar ou propor mudanças em acordos multilaterais de comércio.
  - B) determina a redução das tarifas médias dos produtos industriais dos países desenvolvidos e em desenvolvimento, mas concede autonomia para os países-membros decidirem sobre as tarifas médias dos produtos agrícolas.
  - C) procura solucionar controvérsias observadas entre países-membros, mas não permite que o país violador das regras do comércio internacional sofra retaliações por se recusar a reconsiderar a posição tomada.
  - D) inclui, em seus poderes organizacionais, o estabelecimento de regras para temas como *anti-dumping*, subsídios e salvaguarda e licenças de importação, excluindo as medidas fitossanitárias e as barreiras técnicas.
20. Área de Livre Comércio constitui uma forma de integração econômica entre os países-membros, que concordam em
- A) eliminar as barreiras de comércio entre eles, mantendo políticas comerciais independentes em relação aos países não-integrantes.
  - B) reduzir as barreiras de comércio entre eles, fixando uma tarifa comum a todos os participantes.
  - C) comercializar seus produtos livremente, estendendo os benefícios tarifários inclusive para outros países.
  - D) implantar barreiras comerciais entre eles, evitando a perda de competitividade de seus produtos.

21. São fases de integração econômica entre países a Zona de Livre Comércio, a União Aduaneira, o Mercado Comum, a União Econômica e a Integração Econômica Total. A fase de Mercado Comum caracteriza-se pela existência de
- A) livre comércio, política comercial independente e mobilidade dos fatores de produção.
  - B) barreiras comerciais, política comercial independente e livre movimento de fatores de produção.
  - C) livre comércio, política comercial uniforme e livre movimento de fatores de produção.
  - D) barreiras comerciais, política comercial uniforme e mobilidade parcial de fatores de produção.
22. "Protecionismo" é uma prática de comércio que visa proteger a economia doméstica da concorrência internacional. As barreiras comerciais, como uma forma de protecionismo, expressam um conjunto de instrumentos que o governo adota para controlar
- A) a entrada de produtos no país e a fuga de capitais.
  - B) o comércio internacional de seu país, tais como a cobrança de imposto sobre as exportações, quotas de exportações, licenças de importações e controle sanitário.
  - C) a saída de produtos do país e a entrada de capitais.
  - D) o comércio internacional de seu país, tais como tarifas, subsídios, quotas de importações, licenças de importações e controle sanitário.
23. Outras práticas protecionistas adotadas pelos países que querem proteger sua economia do comércio internacional são as barreiras não-tarifárias. Elas incluem, além dos regulamentos sanitários e de saúde, das normas técnicas, dos padrões de segurança e inspeção,
- A) eliminação de tarifas sobre as importações essenciais, tais como remédios e vacinas.
  - B) eliminação de tarifas e subsídios sobre as exportações de produtos primários.
  - C) restrições burocráticas às importações de mercadorias.
  - D) restrições burocráticas às exportações de mercadorias.
24. A taxa de câmbio expressa o preço da moeda estrangeira em termos da moeda nacional. Uma valorização cambial tende a
- A) reduzir a competitividade das exportações e a favorecer a redução das importações.
  - B) aumentar a competitividade das exportações e a favorecer a redução das importações.
  - C) reduzir a competitividade das exportações e a favorecer o aumento das importações.
  - D) aumentar a competitividade das exportações e a favorecer o aumento das importações.

25. No comércio internacional, os contratos que têm por base o *Incoterms* CIF (*Cost, Insurance and Freight*) implicam que todas as despesas são de responsabilidade do
- A) vendedor até a saída da mercadoria do porto de origem, exceto seguro marítimo e fretes.
  - B) comprador até a saída da mercadoria do porto de origem, inclusive seguro marítimo e fretes.
  - C) comprador até a chegada da mercadoria ao porto de destino, exceto seguro marítimo e fretes.
  - D) vendedor até a chegada da mercadoria ao porto de destino, inclusive seguro marítimo e fretes.
26. Uma das funções da Organização Mundial do Comércio é coibir políticas protecionistas e práticas de *dumping* no comércio internacional. A prática de *dumping* ocorre quando
- A) os compradores estrangeiros pagam um preço inferior ao preço cobrado pela mercadoria no país importador.
  - B) os exportadores vendem uma mercadoria por um preço superior ao preço cobrado por ela no mercado interno.
  - C) os importadores pagam por uma mercadoria um preço superior ao preço cobrado por ela no país que a exportou.
  - D) os compradores estrangeiros pagam um preço inferior ao preço cobrado pelo produto no mercado interno do país exportador.
27. No comércio internacional, os contratos que têm por base o *Incoterms* FOB (*Free on Board*) implicam que
- A) as despesas de importação são assumidas pelo comprador, inclusive os custos de transporte do produto exportado, até o seu recebimento no porto de destino.
  - B) as despesas e os riscos por perdas e danos ocorrem por conta do vendedor até a colocação da mercadoria a bordo do navio.
  - C) as despesas e os riscos por perdas e danos ocorrem por conta da administração portuária do país importador até a colocação da mercadoria a bordo do navio.
  - D) as despesas de importação são assumidas pela administração portuária do país exportador, exceto os custos de transporte do produto, até o porto do país importador.
28. As relações econômicas internacionais contemporâneas caracterizam-se pela tendência à formação de blocos econômicos. O Mercosul é um acordo de integração que envolve
- A) a adoção de uma tarifa externa comum (TEC) entre os países-membros: Argentina, Brasil, Uruguai e Colômbia.
  - B) a adoção de uma tarifa interna comum (TIC) entre os países-membros: Argentina, Brasil, Uruguai e Colômbia.
  - C) a adoção de uma tarifa interna comum (TIC) entre os países-membros: Argentina, Brasil, Uruguai e Paraguai.
  - D) a adoção de uma tarifa externa comum (TEC) entre os países-membros: Argentina, Brasil, Uruguai e Paraguai.

- 29.** A formação de um Bloco Econômico pressupõe a integração, em diversas fases, entre os países-membros. A União Européia constitui a experiência mais completa de um processo de integração. Seus países-membros adotam uma
- A)** política comercial uniforme, a despeito de apresentarem diferenças em relação ao tamanho de suas economias e de seus indicadores socioeconômicos.
  - B)** política comercial independente entre eles, pois apresentam diferenças em relação ao tamanho de suas economias e de seus indicadores socioeconômicos.
  - C)** política comercial independente entre eles, pois apresentam semelhanças quanto ao tamanho de suas economias e de seus indicadores socioeconômicos.
  - D)** política comercial uniforme, por apresentarem semelhanças quanto ao tamanho de suas economias e de seus indicadores socioeconômicos.
- 30.** A tarifa é uma das mais importantes restrições do comércio internacional. A tarifa *ad valorem* é expressa como
- A)** percentagem fixa do valor da mercadoria comercializada, enquanto a tarifa específica é uma quantidade fixa por unidade física da mercadoria comercializada.
  - B)** uma quantidade fixa sobre o valor da mercadoria comercializada, enquanto a tarifa específica é uma quantidade fixa sobre a unidade física da mercadoria comercializada.
  - C)** percentagem do valor da mercadoria comercializada, enquanto a tarifa específica é uma quantidade fixa e uma parcela variável por unidade física da mercadoria comercializada.
  - D)** uma quantidade fixa e uma parcela variável sobre o valor da mercadoria comercializada, enquanto a tarifa específica é uma quantidade variável por unidade física da mercadoria comercializada.

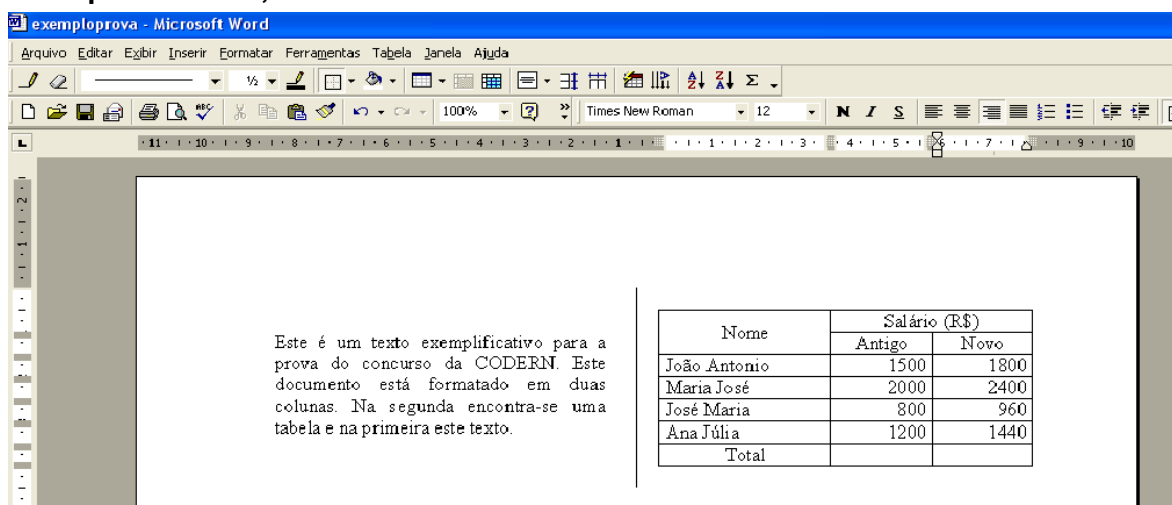
31. Considere as seguintes afirmativas, relacionadas à barra de Tarefas do Windows:

I	Através das operações de arrastar e soltar, é possível introduzir atalhos na barra de Inicialização rápida.
II	Um clique no botão direito do <i>mouse</i> sobre uma área vazia da barra de Tarefas mostra um menu contexto.
III	A posição da barra de Tarefas deve ser horizontal, na parte inferior da área de trabalho.
IV	É possível fechar um aplicativo que está sendo executado clicando-se o botão direito do <i>mouse</i> sobre o ícone do aplicativo na barra de Tarefas.




A opção em que todas as afirmativas são verdadeiras é:

- A) I, II e III
- B) I, II e IV
- C) II, III e IV
- D) I, III e IV

A figura a seguir mostra parte de uma janela do Microsoft Word e será utilizada para as questões 32, 33 e 34.





32. É correto afirmar:

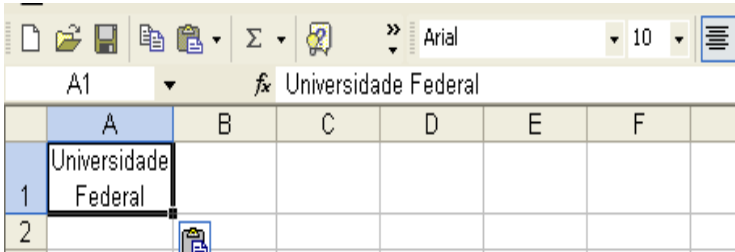
- A) O botão  indica que a espessura das linhas e bordas da tabela é de 1/2 milímetro.
- B) O botão  pode ser utilizado para escrever informações alfanuméricas nas células da tabela.
- C) Colocando-se o cursor no cruzamento da coluna Novo com a linha Total (célula em branco) e clicando-se o botão , obtém-se o valor 6.500.
- D) De acordo com a figura, o cursor (que não está visível) deve estar em qualquer das células da coluna Novo da tabela.

33. Existem várias seqüências de ações para construir uma tabela utilizando a barra de menu. A seqüência correta para construir a tabela mostrada é:
- A) Tabela/Inserir/Tabela/Escolher 3 colunas e 7 linhas/OK/Selecionar as 2 primeiras linhas da segunda coluna/Tabela/Mesclar Células/Selecionar a primeira linha da primeira coluna/Tabela/Dividir células/Escolher 2 colunas e duas linhas/OK
  - B) Tabela/Inserir/Tabela/Escolher 2 colunas e 7 linhas/OK/Selecionar as 6 últimas linhas da segunda coluna/Tabela/Dividir células/Escolher 2 colunas e 6 linhas/OK/Selecionar as duas primeiras linhas da primeira coluna/Tabela/Mesclar células
  - C) Tabela/Inserir/Tabela/Escolher 1 coluna e 7 linhas/OK/Selecionar as 6 últimas linhas/Tabela/Dividir células/Escolher 2 colunas e 6 linhas/OK/Selecionar as duas primeiras linhas da primeira coluna/Tabela/Mesclar células
  - D) Tabela/Inserir/Tabela/Escolher 2 colunas e 7 linhas/OK/Selecionar as 4 últimas linhas da segunda coluna/Tabela/Dividir células/Escolher 2 colunas e 4 linhas/OK/Selecionar as duas primeiras linhas da primeira coluna/Tabela/Mesclar células

34. A respeito da janela do MS Word, é correto afirmar:

- A) O botão  (não visível) pertence à barra de ferramentas de *Formatação*.
- B) Na barra de ferramenta padrão, aparecem todos os botões que a compõem.
- C) O botão  da barra de ferramentas *Tabelas e bordas* é utilizado para inserir uma tabela.
- D) As barras de ferramentas visíveis são: *Padrão*, *Formatação* e *Tabelas e bordas*.

35. A figura ao lado mostra que, na célula A1, foi digitado o título Universidade Federal, como mostrado na barra de fórmula. Para isso, a largura da coluna A foi alterada para 10,43. Para se obter a formatação mostrada, a seqüência correta é:



	A	B	C	D	E	F	G
1	Universidade Federal						
2							




- A) Formatar/ Células.../ Guia Alinhamento/ Alinhamento de texto Horizontal: **Centro**/ Controle de texto: **Mesclar células**/ OK
- B) Formatar/ Células.../ Guia Alinhamento/ Alinhamento de texto Horizontal: **Centro**/ Controle de texto: **Reduzir para ajustar**/ OK
- C) Formatar/ Células.../ Guia Alinhamento/ Alinhamento de texto Horizontal: **Centro**/ Controle de texto: **Retorno automático de texto**/ OK
- D) Após digitar **Universidade**, foi teclado Enter e, em seguida, digitado **Federal**/ botão Centralizar.

36. Considere os seguimentos de planilhas mostrados nas figuras ao lado, sendo o da direita o resultado após a formatação do seguimento da esquerda.

A seqüência correta utilizada para formatar o conteúdo da faixa de células de A1 a B5 é:

	A	B
1	Zenaide	2500
2	Pedro	300
3	Ana	650
4	Marcio	850
5	Julia	1500

	A	B
1	Ana	R\$ 650,00
2	Julia	R\$ 1.500,00
3	Marcio	R\$ 850,00
4	Pedro	R\$ 300,00
5	Zenaide	R\$ 2.500,00

- A) Formatar/ Células.../ Guia Número/ Categoria: **Contábil**/ Casas decimais: **2**/ Símbolo: R\$/ OK
- B) Formatar/ Células.../ Guia Número/ Categoria: **Moeda**/ Casas decimais: **2**/ Símbolo: R\$/ OK/ botão Classificação crescente 
- C) Formatar/ Células.../ Guia Número/ Categoria: **Número**/ Casas decimais: **2**/ Usar separador de milhar/ OK/ botão Classificação crescente 
- D) Formatar/ Células.../ Guia Número/ Categoria: **Geral**/ Casas decimais: **2**/ Símbolo: R\$/ OK/ botão Classificação crescente 

37. A figura abaixo mostra um trecho de planilha contendo nomes, idade e altura de alguns jogadores. Supondo que, na coluna D (Situação), foi colocada a fórmula: **=SE(E(B2>=16;C2>1,72);"Compete";"Não Compete")**, é correto afirmar que irão competir:

	A	B	C	D
1	Jogador	Idade	Altura	Situação
2	Beth	20	1,80	
3	Ana	17	1,70	
4	Ieda	15	1,20	
5	Jose	17	1,75	
6				
7				

- A) Beth e Ieda
- B) Beth e Jose
- C) Ieda e Jose
- D) Ana e Ieda

38. Considere as seguintes afirmativas, relacionadas à Internet:

I	Webmail é um sistema que permite gerenciar serviços de mensagens na Internet.
II	Para cada <i>site</i> que está visitando, o usuário do Internet Explorer pode definir três níveis de segurança: Restrito, Irrestrito e Médio.
III	Quando o usuário torna uma página da Web disponível <i>off-line</i> , ele pode ler o seu conteúdo quando o computador está desconectado da Internet.
IV	TCP/IP é o protocolo-base usado para comunicação entre computadores na Internet.

A opção em que todas as afirmativas são verdadeiras é:

- A) II, III e IV
- B) I, II e IV
- C) I, II e III
- D) I, III e IV

39. A respeito de serviços na Internet, é correto afirmar:

- A) A transferência de um arquivo do computador de um usuário para um servidor na Internet é denominada *upload*.
- B) O FTP é o serviço da Internet que possibilita aos usuários se comunicarem em tempo real (o popular bate-papo).
- C) Um possível endereço de *e-mail* da CODERN é [www.codern.com.br](http://www.codern.com.br)
- D) Dois usuários da Internet só podem trocar e-mail se ambos estiverem conectados.

40. Considere as seguintes afirmativas, relacionadas ao MS PowerPoint:

I	O modo de classificação de <i>slides</i> é o mais indicado para organizar os <i>slides</i> .
II	Cada <i>slide</i> funciona como uma página de uma apresentação.
III	A ordem de apresentação dos <i>slides</i> deve ser a mesma em que foram criados.
IV	Os principais modos de exibição de <i>slides</i> são: <i>normal</i> , <i>estrutura de tópicos</i> , <i>classificação</i> , <i>slides</i> e <i>apresentação</i> .

A opção em que todas as afirmativas são verdadeiras é:

- A) I, II e III
- B) II, III e IV
- C) I, II e IV
- D) I, III e IV



