



# Concurso Público

para Provimento de Cargos



## Contador

### INSTRUÇÕES

- 1 Identifique-se na **parte inferior** desta capa. Caso se identifique em qualquer outro local deste Caderno, você será excluído do Concurso.
- 2 Este Caderno contém, respectivamente, **uma** proposta de Redação, **trinta questões** de Conhecimentos Específicos e **dez questões** de Conhecimentos de Informática.
- 3 Verifique se o Caderno está completo e sem imperfeições gráficas que possam dificultar a leitura. Detectado algum problema, comunique-o, imediatamente, ao Fiscal.
- 4 Na **Redação**, você será avaliado **exclusivamente** por aquilo que escrever dentro do espaço destinado ao texto definitivo.
- 5 Cada questão de múltipla escolha apresenta **apenas uma opção de resposta correta**.
- 6 Escreva de modo legível. Dúvida gerada por grafia ou rasura implicará redução de pontos.
- 7 Você dispõe de, no máximo, **três horas** para elaborar, em caráter definitivo, a Redação, responder às questões de múltipla escolha e preencher a Folha de Respostas.
- 8 O preenchimento da Folha de Respostas é de sua inteira responsabilidade.
- 9 Antes de retirar-se definitivamente da Sala, **devolva** ao Fiscal **este Caderno** e a **Folha de Respostas**.

### Identificação do candidato

Nome (completo, em letra de forma)	Nº da Inscrição
------------------------------------	-----------------

Nº da Turma	Assinatura
-------------	------------









- 01.** De acordo com a Lei N° 6.404, de 15.12.1976, conhecida como “Lei das Sociedades por Ações”, é obrigatória, além da demonstração das origens e aplicações de recursos, da demonstração do resultado do exercício e do balanço patrimonial, a demonstração
- A) do fluxo de caixa.
  - B) de mutações do patrimônio líquido.
  - C) de lucros ou prejuízos acumulados.
  - D) do valor adicionado.
- 02.** A demonstração do valor adicionado evidencia
- A) a distribuição dos lucros gerados entre os acionistas e empregados.
  - B) a distribuição da riqueza gerada pela empresa entre os seus beneficiários.
  - C) a composição do preço de venda de um produto a partir do custo de produção.
  - D) a composição do preço de venda de um produto a partir do preço de mercado.
- 03.** Por determinação da Comissão de Valores Mobiliários (CVM), os lucros gerados pelas empresas de capital aberto **não** devem mais permanecer retidos na conta de
- A) lucros acumulados.
  - B) reserva de lucros.
  - C) lucros inflacionários.
  - D) reserva de reavaliação.
- 04.** Uma empresa atinge o ponto de equilíbrio econômico quando
- A) seu resultado corresponde ao mesmo que foi obtido por equivalência patrimonial.
  - B) seu resultado, após a dedução de todas as despesas das receitas, é igual a zero.
  - C) seu resultado corresponde, no mínimo, ao custo de oportunidade do investimento.
  - D) seu resultado, após constituição da reserva legal, é distribuído entre os acionistas.
- 05.** O grau de alavancagem operacional representa a relação entre
- A) o resultado operacional obtido e o resultado geral projetado para o período.
  - B) a variação ocorrida no lucro e a variação no volume de vendas que a provocou.
  - C) a variação ocorrida no disponível e a variação no volume de compras que a provocou.
  - D) o fluxo de caixa operacional líquido e os investimentos em ativos operacionais.



10. O índice de liquidez seca da empresa é:
- A) 2,0
  - B) 1,0
  - C) 0,7
  - D) 1,3
11. O índice de liquidez imediata da empresa é:
- A) 1,3
  - B) 1,5
  - C) 1,0
  - D) 1,2
12. O índice de liquidez corrente da empresa é:
- A) 2,0
  - B) 1,0
  - C) 0,5
  - D) 1,5
13. Uma empresa produziu 10.000 unidades no mês de maio, tendo consumido R\$ 9.000.000,00 nessa produção. Se cada unidade é vendida por R\$ 1.000,00, com uma margem de contribuição de 40%, o seu ponto de equilíbrio contábil, em unidades físicas, será de:
- A) 7.500
  - B) 9.000
  - C) 4.500
  - D) 6.000
14. O fluxo de caixa pode ser elaborado pelos métodos direto e indireto. Quando se utiliza o método indireto, **não** são
- A) demonstrados os detalhes operacionais, como recebimentos e pagamentos.
  - B) comparados os saldos contábeis de disponibilidades do balanço.
  - C) considerados os gastos com depreciação, amortização e exaustão.
  - D) verificados os aumentos de capital e as retenções de lucro.
15. Segundo a taxionomia de ativos financeiros, título de renda fixa é aquele que promete um fluxo fixo de renda ou um fluxo de renda que
- A) só estará disponível para saques após certo prazo fixo.
  - B) não sofre influência dos coeficientes de endividamento.
  - C) tem prioridade no momento dos resgates individuais.
  - D) é determinado de acordo com uma fórmula específica.

**16. Os títulos derivativos**

- A) representam dívidas formadas a partir da emissão de debêntures.
- B) têm seus valores definidos a partir de prazos de resgate.
- C) oferecem pagamentos que dependem dos valores de outros ativos.
- D) podem ser convertidos em obrigações do tesouro público.

**17. São características dos títulos negociados no mercado de capitais:**

- A) maiores riscos e menores prazos
- B) maiores riscos e maiores prazos
- C) menores riscos e menores prazos
- D) menores riscos e maiores prazos

**As questões 18, 19 e 20 se referem à situação abaixo:**

Um imóvel, com vida útil de 25 anos, foi adquirido em junho de 1990, por R\$ 50.000,00. Quinze anos depois, com base em laudo aprovado, esse imóvel foi reavaliado em R\$ 80.000,00, e sua vida útil passou para 20 anos.

**18. O valor da reserva de reavaliação será de:**

- A) R\$ 30.000,00
- B) R\$ 60.000,00
- C) R\$ 80.000,00
- D) R\$ 50.000,00

**19. O valor da depreciação anual passará a ser de:**

- A) R\$ 4.000,00
- B) R\$ 2.000,00
- C) R\$ 3.200,00
- D) R\$ 2.500,00

**20. A contrapartida do lançamento de baixa da reserva de reavaliação deve ser registrada na conta**

- A) lucros acumulados.
- B) despesa de depreciação.
- C) reserva de capital.
- D) imobilizado.

**21. A defasagem permitida para a empresa controlada efetuar o encerramento de seus demonstrativos, a fim de possibilitar que a empresa controladora proceda à consolidação das demonstrações contábeis, de acordo com a Lei das Sociedades por Ações, é de**

- A) 45 dias.
- B) 30 dias.
- C) 60 dias.
- D) 90 dias.



22. No balanço consolidado, o valor correspondente às participações minoritárias deve figurar destacado do patrimônio líquido consolidado, num grupo de contas específico, localizado antes do grupo
- A) passivo circulante.
  - B) passivo exigível a longo prazo.
  - C) resultados de exercícios futuros.
  - D) patrimônio líquido.
23. Ao se utilizar um orçamento baseado em custo-padrão para controle de gastos na produção, o detalhamento das variações do custo de mão-de-obra deve conter as variações provocadas por
- A) taxa e eficácia.
  - B) preço e eficiência.
  - C) taxa e eficiência.
  - D) preço e eficácia.
24. Quanto à avaliação do ambiente de controle existente, o auditor deve considerar
- A) a revisão sistemática da exatidão aritmética dos registros.
  - B) o acesso a arquivos e a geração de relatórios.
  - C) o processo decisório adotado na entidade.
  - D) a elaboração, a revisão e a aprovação de conciliações de contas.
25. Os tipos de risco de auditoria são:
- A) risco operacional, risco inerente e risco de detecção
  - B) risco de controle, risco inerente e risco de falência
  - C) risco de detecção, risco de falência e risco operacional
  - D) risco inerente, risco de controle e risco de detecção
26. É característica da modalidade de *leasing* financeiro:
- A) O prazo de arrendamento deve ser sempre superior a cinco anos ou à vida útil do bem arrendado.
  - B) O gasto com manutenção e assistência técnica é de inteira responsabilidade do arrendador.
  - C) O preço para o exercício da opção de compra é o valor de um bem novo, semelhante ao bem arrendado.
  - D) O custo do bem arrendado é totalmente recuperado pela arrendadora durante o prazo contratual.

27. No contexto das relações custo-volume-lucro, a margem de segurança da empresa representa
- A) o lucro líquido após a dedução dos impostos incidentes sobre as vendas.
  - B) o volume de vendas conseguido acima do ponto de equilíbrio contábil.
  - C) a diferença entre o preço de venda, os custos e as despesas variáveis.
  - D) a soma dos custos marginais dos vários produtos comercializados.
28. O fato gerador dos impostos sobre a importação de produtos estrangeiros, de acordo com o Código Tributário Nacional, é
- A) o imposto complementar gerado na venda.
  - B) a formalização do pedido de compra.
  - C) o adiantamento feito pelo comprador.
  - D) a entrada dos produtos em território nacional.
29. O capital circulante líquido (CCL) é a diferença entre o ativo circulante e o passivo circulante. Quando o CCL é negativo, o passivo circulante
- A) financia todo o ativo circulante e parte de outros ativos.
  - B) financia todo o ativo permanente e o realizável a longo prazo.
  - C) não financia nenhum item patrimonial do ativo circulante.
  - D) não financia os investimentos operacionais de curto prazo.
30. Representam origens de recursos as contas:
- A) fornecedores – capital – títulos a pagar – reservas
  - B) bancos – caixa – aplicações financeiras – estoques
  - C) fornecedores – capital – títulos a pagar – estoques
  - D) bancos – caixa – aplicações financeiras – reservas

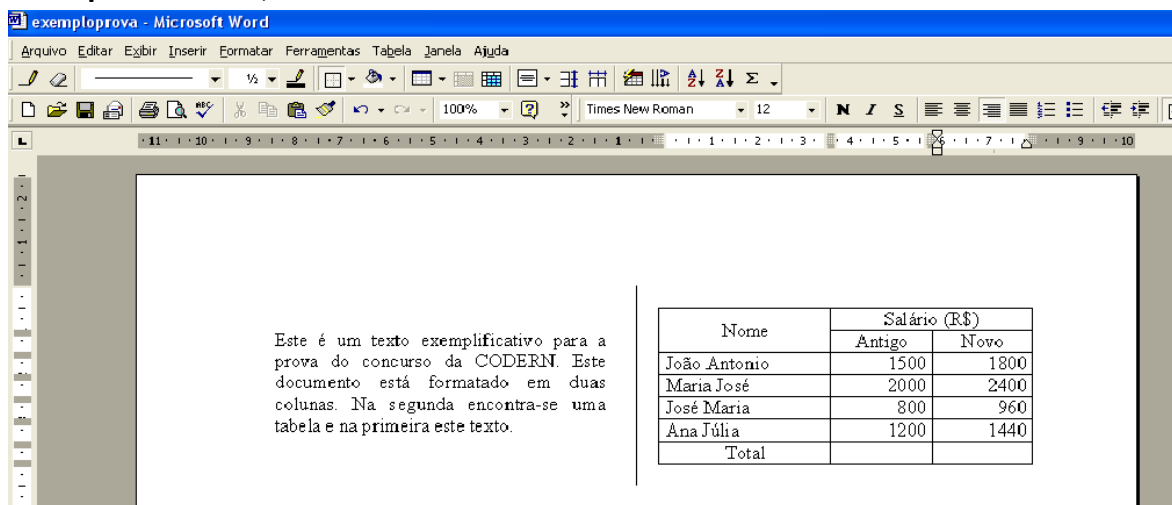
31. Considere as seguintes afirmativas, relacionadas à barra de Tarefas do Windows:

I	Através das operações de arrastar e soltar, é possível introduzir atalhos na barra de Inicialização rápida.
II	Um clique no botão direito do <i>mouse</i> sobre uma área vazia da barra de Tarefas mostra um menu contexto.
III	A posição da barra de Tarefas deve ser horizontal, na parte inferior da área de trabalho.
IV	É possível fechar um aplicativo que está sendo executado clicando-se o botão direito do <i>mouse</i> sobre o ícone do aplicativo na barra de Tarefas.




A opção em que todas as afirmativas são verdadeiras é:

- A) I, II e III
- B) I, II e IV
- C) II, III e IV
- D) I, III e IV

A figura a seguir mostra parte de uma janela do Microsoft Word e será utilizada para as questões 32, 33 e 34.





32. É correto afirmar:

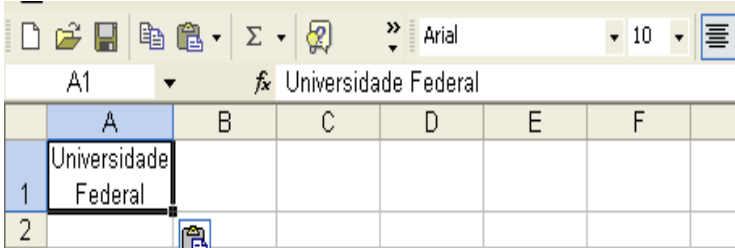
- A) O botão  indica que a espessura das linhas e bordas da tabela é de 1/2 milímetro.
- B) O botão  pode ser utilizado para escrever informações alfanuméricas nas células da tabela.
- C) Colocando-se o cursor no cruzamento da coluna Novo com a linha Total (célula em branco) e clicando-se o botão , obtém-se o valor 6.500.
- D) De acordo com a figura, o cursor (que não está visível) deve estar em qualquer das células da coluna Novo da tabela.

33. Existem várias seqüências de ações para construir uma tabela utilizando a barra de menu. A seqüência correta para construir a tabela mostrada é:
- A) Tabela/Inserir/Tabela/Escolher 3 colunas e 7 linhas/OK/Selecionar as 2 primeiras linhas da segunda coluna/Tabela/Mesclar Células/Selecionar a primeira linha da primeira coluna/Tabela/Dividir células/Escolher 2 colunas e duas linhas/OK
  - B) Tabela/Inserir/Tabela/Escolher 2 colunas e 7 linhas/OK/Selecionar as 6 últimas linhas da segunda coluna/Tabela/Dividir células/Escolher 2 colunas e 6 linhas/OK/Selecionar as duas primeiras linhas da primeira coluna/Tabela/Mesclar células
  - C) Tabela/Inserir/Tabela/Escolher 1 coluna e 7 linhas/OK/Selecionar as 6 últimas linhas/Tabela/Dividir células/Escolher 2 colunas e 6 linhas/OK/Selecionar as duas primeiras linhas da primeira coluna/Tabela/Mesclar células
  - D) Tabela/Inserir/Tabela/Escolher 2 colunas e 7 linhas/OK/Selecionar as 4 últimas linhas da segunda coluna/Tabela/Dividir células/Escolher 2 colunas e 4 linhas/OK/Selecionar as duas primeiras linhas da primeira coluna/Tabela/Mesclar células

34. A respeito da janela do MS Word, é correto afirmar:

- A) O botão  (não visível) pertence à barra de ferramentas de *Formatação*.
- B) Na barra de ferramenta padrão, aparecem todos os botões que a compõem.
- C) O botão  da barra de ferramentas *Tabelas e bordas* é utilizado para inserir uma tabela.
- D) As barras de ferramentas visíveis são: *Padrão*, *Formatação* e *Tabelas e bordas*.

35. A figura ao lado mostra que, na célula A1, foi digitado o título Universidade Federal, como mostrado na barra de fórmula. Para isso, a largura da coluna A foi alterada para 10,43. Para se obter a formatação mostrada, a seqüência correta é:






	A	B	C	D	E	F	G
1	Universidade Federal						
2							

- A) Formatar/ Células.../ Guia Alinhamento/ Alinhamento de texto Horizontal: **Centro**/ Controle de texto: **Mesclar células**/ OK
- B) Formatar/ Células.../ Guia Alinhamento/ Alinhamento de texto Horizontal: **Centro**/ Controle de texto: **Reduzir para ajustar**/ OK
- C) Formatar/ Células.../ Guia Alinhamento/ Alinhamento de texto Horizontal: **Centro**/ Controle de texto: **Retorno automático de texto**/ OK
- D) Após digitar **Universidade**, foi teclado Enter e, em seguida, digitado **Federal**/ botão Centralizar.

36. Considere os seguimentos de planilhas mostrados nas figuras ao lado, sendo o da direita o resultado após a formatação do seguimento da esquerda. A seqüência correta utilizada para formatar o conteúdo da faixa de células de A1 a B5 é:

	A	B
1	Zenaide	2500
2	Pedro	300
3	Ana	650
4	Marcio	850
5	Julia	1500

	A	B
1	Ana	R\$ 650,00
2	Julia	R\$ 1.500,00
3	Marcio	R\$ 850,00
4	Pedro	R\$ 300,00
5	Zenaide	R\$ 2.500,00

- A) Formatar/ Células.../ Guia Número/ Categoria: **Contábil**/ Casas decimais: **2**/ Símbolo: R\$/ OK
- B) Formatar/ Células.../ Guia Número/ Categoria: **Moeda**/ Casas decimais: **2**/ Símbolo: R\$/ OK/ botão Classificação crescente 
- C) Formatar/ Células.../ Guia Número/ Categoria: **Número**/ Casas decimais: **2**/ Usar separador de milhar/ OK/ botão Classificação crescente 
- D) Formatar/ Células.../ Guia Número/ Categoria: **Geral**/ Casas decimais: **2**/ Símbolo: R\$/ OK/ botão Classificação crescente 

37. A figura abaixo mostra um trecho de planilha contendo nomes, idade e altura de alguns jogadores. Supondo que, na coluna D (Situação), foi colocada a fórmula: **=SE(E(B2>=16;C2>1,72);"Compete";"Não Compete")**, é correto afirmar que irão competir:

	A	B	C	D
1	Jogador	Idade	Altura	Situação
2	Beth	20	1,80	
3	Ana	17	1,70	
4	Ieda	15	1,20	
5	Jose	17	1,75	
6				
7				

- A) Beth e Ieda  
 B) Beth e Jose  
 C) Ieda e Jose  
 D) Ana e Ieda

38. Considere as seguintes afirmativas, relacionadas à Internet:

I	Webmail é um sistema que permite gerenciar serviços de mensagens na Internet.
II	Para cada <i>site</i> que está visitando, o usuário do Internet Explorer pode definir três níveis de segurança: Restrito, Irrestrito e Médio.
III	Quando o usuário torna uma página da Web disponível <i>off-line</i> , ele pode ler o seu conteúdo quando o computador está desconectado da Internet.
IV	TCP/IP é o protocolo-base usado para comunicação entre computadores na Internet.

A opção em que todas as afirmativas são verdadeiras é:

- A) II, III e IV  
 B) I, II e IV  
 C) I, II e III  
 D) I, III e IV

39. A respeito de serviços na Internet, é correto afirmar:

- A) A transferência de um arquivo do computador de um usuário para um servidor na Internet é denominada *upload*.
- B) O FTP é o serviço da Internet que possibilita aos usuários se comunicarem em tempo real (o popular bate-papo).
- C) Um possível endereço de *e-mail* da CODERN é [www.codern.com.br](http://www.codern.com.br)
- D) Dois usuários da Internet só podem trocar e-mail se ambos estiverem conectados.

40. Considere as seguintes afirmativas, relacionadas ao MS PowerPoint:

I	O modo de classificação de <i>slides</i> é o mais indicado para organizar os <i>slides</i> .
II	Cada <i>slide</i> funciona como uma página de uma apresentação.
III	A ordem de apresentação dos <i>slides</i> deve ser a mesma em que foram criados.
IV	Os principais modos de exibição de <i>slides</i> são: <i>normal</i> , <i>estrutura de tópicos</i> , <i>classificação</i> , <i>slides</i> e <i>apresentação</i> .

A opção em que todas as afirmativas são verdadeiras é:

- A) I, II e III
- B) II, III e IV
- C) I, II e IV
- D) I, III e IV

