



Concurso Público

para Provimento de Cargos



Guarda Portuário

INSTRUÇÕES

1 Escreva seu Número de Inscrição no retângulo a seguir:

2 Este Caderno contém, respectivamente, **25 questões** de Português, **15 questões** de Matemática e **10 questões** de Conhecimentos de Informática.

3 Confira se o Caderno está completo e sem imperfeições gráficas que possam dificultar a leitura. Se verificar algum problema, comunique-o, imediatamente, ao Fiscal.

5 Cada questão apresenta **apenas uma opção de resposta correta**.

6 Utilize qualquer espaço deste Caderno para rascunhos e não destaque nenhuma folha.

7 Você dispõe de, no máximo, **três horas** para responder às 50 questões e preencher a Folha de Respostas.

8 A interpretação das questões faz parte da avaliação. Portanto, não peça esclarecimentos aos Fiscais.

8 O preenchimento da Folha de Respostas é de sua inteira responsabilidade.

9 Antes de retirar-se definitivamente da Sala, **devolva** ao Fiscal **este Caderno** e a **Folha de Respostas**.

As questões de número 01 a 16 referem-se ao texto reproduzido a seguir.

A melhor opção

3 Todos começaram a dizer que o ouro é a melhor opção de investimento. Fernão Soropita deixou-se convencer e, não tendo recursos bastantes para investir na Bolsa de Zurique, mandou fazer uma dentadura de ouro maciço.

6 Substituir sua dentadura convencional por outra, preciosa e ridícula, valeu-lhe aborrecimentos. O protético não queria aceitar a encomenda; mesmo se esforçando por executá-la com perfeição, o resultado foi insatisfatório. O aparelho não aderiu à boca. Seu peso era demasiado. A cada correção diminuía o valor em ouro. E o ouro subindo de cotação no mercado internacional.

9 O pior é que Fernão passou a ter medo de todos que se aproximavam dele. O receio de ser assaltado não o abandonava. Deixou de sorrir e até de abrir a boca.

12 Na calçada a moça lhe perguntou onde ficava a rua Gonçalves Dias. Respondeu inadvertidamente, e a moça ficou fascinada pelo brilho do ouro ao sol. Daí resultou uma relação amorosa, mas Fernão não foi feliz. A jovem apaixonara-se pela dentadura e não por ele. Mal se tornaram íntimos, arrancou-lhe a dentadura enquanto ele dormia, e desapareceu com ela.

15 ANDRADE, Carlos Drummond de. A melhor opção. In: _____. **Rick e a Girafa**. São Paulo: Ática, 2001, p. 68-69. (Coleção Para Gostar de Ler Júnior – v. 3)

01. Observe o trecho abaixo:

“[...] a moça ficou fascinada pelo brilho do ouro ao sol.”

O sentido da palavra sublinhada equivale a:

- A) chateada
- B) bronzeada
- C) encantada
- D) irritada

O trecho a seguir servirá de base para as questões 02 e 03.

“O receio de ser assaltado não o abandonava.” (linhas 9 - 10)

02. As palavras sublinhadas são, **respectivamente**,

- A) pronome e artigo.
- B) artigo e pronome.
- C) artigo e artigo.
- D) pronome e pronome.

03. É antônimo da palavra **receio**:

- A) coragem
- B) pavor
- C) medo
- D) temor

As questões 4 e 5 referem-se ao trecho que segue:

"A cada correção diminuía o valor em ouro."

04. A palavra **correção** forma o plural do mesmo modo que:

- A) alemão
- B) mão
- C) relação
- D) pão

05. O verbo **diminuir** encontra-se no:

- A) pretérito perfeito
- B) pretérito imperfeito
- C) futuro do presente
- D) futuro do pretérito

O trecho a seguir servirá de base para as questões 06, 07 e 08.

"O protético não queria aceitar a encomenda; mesmo se esforçando por executá-la com perfeição, o resultado foi insatisfatório." (linhas 5 - 6)

06. Em termos de significado, **protético** pertence à mesma "família" do seguinte par de palavras:

- A) brilho – ouro
- B) investimento – valor
- C) perfeição – aborrecimento
- D) boca – dentadura

07. A forma verbal **executá-la** poderia ser substituída por:

- A) aceitá-la
- B) fazê-la
- C) recebê-la
- D) tomá-la

08. É sinônimo da palavra **insatisfatório**:

- A) agradável
- B) aceitável
- C) ruim
- D) positivo

O trecho a seguir servirá de base para as questões 09 e 10.

"[...] não tendo recursos bastantes para investir na Bolsa de Zurique [...]"

09. A forma verbal **tendo** denomina-se:

- A) gerúndio
- B) participio
- C) infinitivo impessoal
- D) imperativo negativo

10. A palavra **bastante** está no plural porque concorda com o

- A) verbo *investir*.
- B) adjetivo.
- C) verbo *ter*.
- D) substantivo.

O trecho abaixo servirá de base para as questões 11, 12 e 13.

"Mal se tornaram íntimos, arrancou-lhe a dentadura enquanto ele dormia, e desapareceu com ela." (linhas 14 - 15)

11. Marque a opção correspondente ao número de formas verbais que o trecho contém:

- A) dois
- B) três
- C) quatro
- D) cinco

12. É antônimo da palavra **desapareceu**:

- A) partiu
- B) sumiu
- C) fugiu
- D) surgiu

13. Os pronomes pessoais **lhe** e **ela** são, **respectivamente**,

- A) oblíquo e reto.
- B) reto e oblíquo.
- C) oblíquo e oblíquo.
- D) reto e reto.

Os dois trechos a seguir servirão de base para as questões 14 e 15.

"Seu peso era demasiado." (linha 7)

"Daí resultou uma relação amorosa [...]" (linha 13)

14. É sinônimo da palavra **demasiado**:

- A) exagerado
- B) exato
- C) ideal
- D) incalculável

15. As palavras **seu** e **uma** se classificam, **respectivamente**, em

- A) pronome pessoal e artigo definido.
- B) pronome possessivo e artigo definido.
- C) pronome pessoal e artigo indefinido.
- D) pronome possessivo e artigo indefinido.

16. Em: "A jovem apaixonara-se pela dentadura [...]", o masculino de **jovem** é formado como o da palavra sublinhada na seguinte frase:
- A) O cantor foi muito aplaudido.
 - B) O tigre é um animal feroz.
 - C) O cientista dedicou sua vida à pesquisa.
 - D) O indivíduo entrou no carro e saiu.

O texto abaixo servirá de base para as questões de 17 a 25.

Barqueiros são a favor, mas pedem revitalização.

Na região de Juazeiro (BA) e Petrolina (PE), ponto final da hidrovia do São Francisco, o projeto de transposição das águas do rio é assunto corrente. A opinião mais comum entre marinheiros e pescadores ouvidos pela **Folha** é favorável ao projeto, mas desde que a revitalização do rio seja feita antes.

Há também dúvidas se a água captada pelo projeto chegará de fato a quem precisa. "Da água da transposição, 70% vai beneficiar grandes empresas e 30%, quem precisa", diz o barqueiro Antônio Laurindo dos Santos, 55, de Rodeadouro, distrito a 6 km de Juazeiro. O capitão fluvial Nestor de Aquino, 43, tem a mesma dúvida sobre o destino final das águas, mas não vê problemas. "Água tem para todo mundo."

Marinheiros da Franave (Companhia de Navegação do São Francisco) disseram que, como a captação de água prevista no projeto está localizada abaixo da hidrovia, a navegação comercial no rio não será afetada.

O barqueiro e pescador Manoel da Silva Santos, 67, de Rodeadouro, diz que o projeto é um "crime". "É retirar Jesus do altar". Para ele, o presidente Lula "não conhece o rio".

BARQUEIROS são a favor, mas pedem revitalização. **Folha de S. Paulo**, São Paulo, 09 out. 2005. Caderno Especial, p.1.

17. No título – "Barqueiros são a favor, mas pedem revitalização." –, a expressão sublinhada poderia ser substituída por:
- A) opinam
 - B) aprovam
 - C) rejeitam
 - D) duvidam

O trecho abaixo servirá de referência para as questões 18, 19 e 20.

"O capitão fluvial [...] tem a mesma dúvida sobre o destino final das águas, mas não vê problemas."

18. Um dos femininos admitidos pela palavra **capitão** é formado como o da palavra:
- A) cão
 - B) campeão
 - C) barão
 - D) peão
19. A palavra **fluvial** tem sentido equivalente ao da expressão:
- A) de rio
 - B) de hidrovia
 - C) do lago
 - D) do mar
20. O plural da forma verbal **tem** é:
- A) têm
 - B) têem
 - C) teem
 - D) tenhem

21. Considere o trecho seguinte:

"Há também dúvidas se a água captada pelo projeto chegará de fato a quem precisa."

A expressão sublinhada corresponde a:

- A) brevemente
- B) casualmente
- C) realmente
- D) possivelmente

22. Observe a frase abaixo:

"[...] a navegação comercial [...] não será afetada."

Reescrita no plural, ela ficaria assim:

- A) As navegações comerciais não serão afetada.
- B) As navegações comerciaus não será afetadas.
- C) As navegações comerciaus não será afetada.
- D) As navegações comerciais não serão afetadas.

O trecho a seguir servirá de base para as questões 23 e 24.

"Na região de Juazeiro (BA) e Petrolina (PE), [...] o projeto de transposição das águas do rio é assunto corrente."

23. O trecho contém uma forma verbal, conjugada no tempo presente. Trata-se do verbo:

- A) correr
- B) transpor
- C) ser
- D) projetar

24. Quanto ao sentido, a palavra **corrente** equivale à que está sublinhada na seguinte frase:

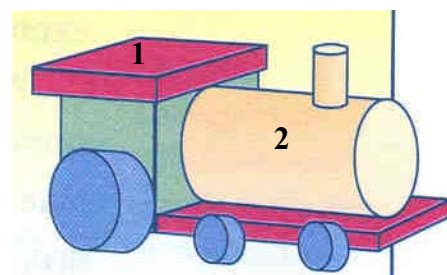
- A) É de ouro a corrente que o barqueiro usa no pescoço.
- B) A corrente marítima virou o barco.
- C) É corrente o uso indevido de celular ao volante.
- D) O mês corrente é o último do ano.

25. Na linha 14, a palavra **ele** é usada em substituição a:

- A) Rodeadouro
- B) Presidente Lula
- C) Jesus
- D) Manoel da Silva Santos

26. A sensibilidade ou precisão de uma balança de estabelecimento comercial, de uma régua escolar e de um relógio de pulso é, **respectivamente**, de
- A) 10 milímetros, 10 gramas e 10 segundos.
 B) 1 milímetro, 1 grama e 1 segundo.
 C) 10 gramas, 10 milímetros e 10 segundos.
 D) 1 grama, 1 milímetro e 1 segundo.

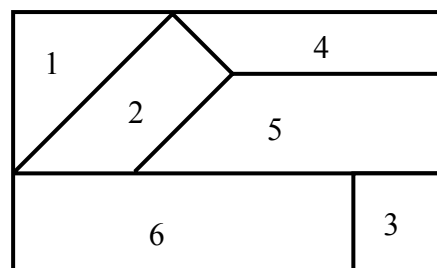
27. As peças do jogo de montar da figura ao lado são corpos geométricos. Na figura, os números 1 e 2 representam, **respectivamente**,



- A) cilindro e prisma.
 B) prisma e cilindro.
 C) pirâmide e cone.
 D) cone e pirâmide.

28. Um caminhão pode transportar uma carga máxima de 5 toneladas. O caminhão deve transportar caixas de 500 kg. A quantidade máxima de caixas que o caminhão pode transportar é:
- A) 30
 B) 20
 C) 15
 D) 10

29. Na figura ao lado, as formas geométricas representadas pelos números 1, 2 e 3 são, **respectivamente**,



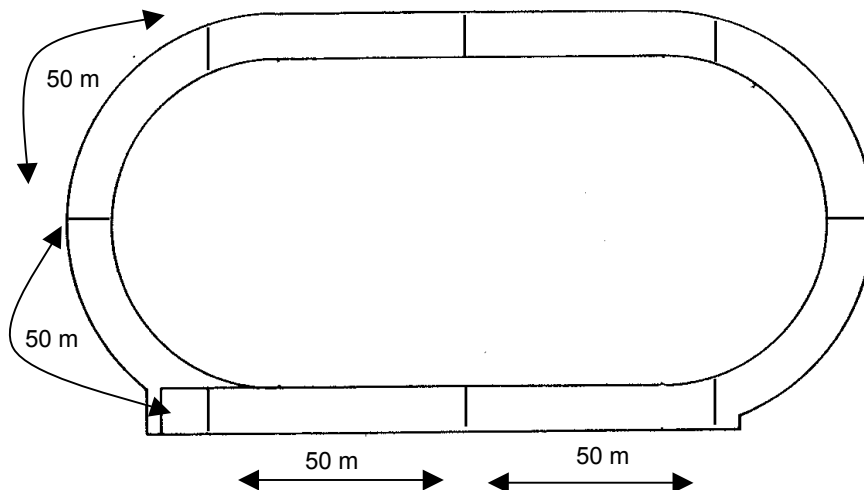
- A) triângulo, trapézio e quadrado.
 B) trapézio, retângulo e hexágono.
 C) triângulo, quadrado e retângulo.
 D) trapézio, pentágono e quadrado.

30. A uma hora em ponto, Ana e Luana, duas atletas, saem correndo de um mesmo ponto, numa pista circular. Ana corre no sentido horário, e Luana, no sentido contrário. Após três horas, as duas se encontram no ponto de partida. Ana deu 10 voltas na pista, e Luana deu 14 voltas. Durante as corridas, Ana e Luana se cruzaram
- A) 23 vezes.
 B) 10 vezes.
 C) 14 vezes.
 D) 24 vezes.

31. Um automóvel faz 12 km com 1 litro de álcool. A quantidade de litros de álcool necessária para o automóvel percorrer 60 km é:
- A) 10 C) 12
B) 5 D) 6
32. Um empresário contrata 5 empregados para uma temporada de 3 meses, na época do Natal. O salário de cada empregado é de 600 reais. Além do salário, o empresário paga pelos três meses, a cada empregado, um adicional de 100 reais. O valor total que o empresário paga aos três empregados, nos três meses, é:
- A) 1.000 reais
B) 1.800 reais
C) 9.000 reais
D) 9.500 reais
33. O interior de uma caixa de água tem 2 m^3 de volume. A quantidade máxima de água que enche a caixa é:
- A) 200 litros
B) 2000 litros
C) 100 litros
D) 1000 litros
34. O salário de um funcionário público é de 1.800 reais. O funcionário gasta $\frac{1}{4}$ do salário com alimentação e $\frac{2}{4}$ com outras despesas. Do que resta, usa $\frac{2}{3}$ para o lazer. A quantidade de dinheiro do salário destinado ao lazer é
- A) 150 reais
B) 450 reais
C) 600 reais
D) 300 reais

35. A figura abaixo representa uma pista de atletismo. A distância de uma marca para outra é de 50 m. Um atleta dá 6 voltas na pista. A distância, em km, percorrida pelo atleta é:

- A) 4,2
B) 6,0
C) 2,4
D) 5,0



36. Numa figura se representam três ângulos. O ângulo A mede 90° , o ângulo B mede mais de 90° e o ângulo C mede menos de 90° . A, B e C são, **respectivamente**, ângulos

A) reto, agudo e obtuso.

C) retângulo, obtuso e reto.

B) reto, obtuso e agudo.

D) retângulo, reto e obtuso.

37. Uma partida de futebol tem dois tempos regulamentares. Cada tempo dura 45 minutos. Um jogador sai 15 minutos antes de terminar o segundo tempo. O tempo em que o jogador permaneceu na partida foi:

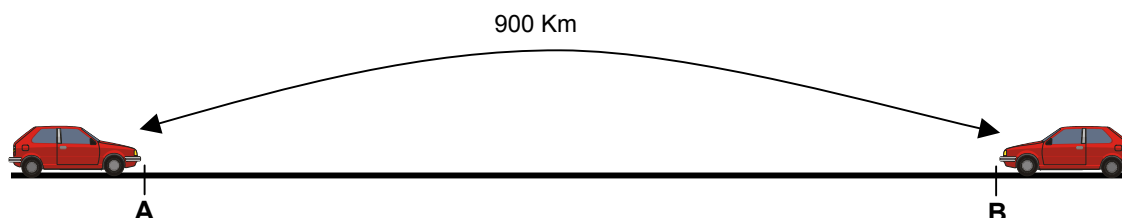
A) 1 hora e 20 minutos

C) 85 minutos

B) 1 hora e 15 minutos

D) 65 minutos

38. José e Gabriela estão viajando na mesma estrada. José sai de A em sentido B, e Gabriela sai de B em sentido A, como mostra a figura abaixo.



José já percorreu $30/100$ de percurso, e Gabriela, $40/100$. Nesse instante, a distância a que um está do outro é:

A) 600 km

B) 450 km

C) 360 km

D) 270 km

39. Dois criadores de gado conversam.

Um deles pergunta: – Por que você não me dá uma de suas vacas? Assim, nós dois ficamos com a mesma quantidade.

O outro responde: – É melhor você me dar uma das suas. Assim, eu poderei ter duas vezes o número de vacas que você tem.

O número de vacas que cada um deles possui é, **respectivamente**:

A) 5 e 7

C) 5 e 10

B) 4 e 8

D) 7 e 14

40. Sabe-se que, a cada 5 minutos, passam 600 pessoas pela entrada de um estádio de futebol para assistir a um jogo. O total de espectadores levou 2 horas para passar por esse ponto.

O número de espectadores que entraram no estádio, nesse tempo, foi:

A) 28.800

B) 7.760

C) 14.400

D) 72.000

41. Em relação aos componentes básicos de um computador, é correto afirmar:
- A) O disco rígido e o disquete fazem parte da memória principal.
 - B) A memória RAM e a memória ROM são tipos de memória secundária.
 - C) A memória RAM é volátil, isto é, as informações gravadas se perdem quando o computador é desligado.
 - D) A memória *cache* é um tipo especial de memória ROM.
42. Em relação aos elementos básicos de um sistema de computação, é correto afirmar:
- A) O Sistema Operacional gerencia os recursos computacionais, tornando possível a comunicação do *software* com o *hardware*.
 - B) O *Mouse*, o teclado e a impressora são periféricos de entrada.
 - C) O número de bits de um *byte*, depende do modelo e das características do processador utilizado, podendo ter 16, 32 ou mais bits.
 - D) Os aplicativos, como MS Word e MS Excel fazem parte do Sistema Operacional MS Windows.
43. No sistema operacional MS Windows, o espaço utilizado para armazenar informações recortadas ou copiadas é chamado de:
- A) Área de transferência
 - B) Área de armazenamento
 - C) Área de *buffer*
 - D) Área de cópia
44. Cada uma das quatro figuras abaixo correspondem a um ícone do Microsoft Windows XP:



1



2



3







4



A seqüência que identifica os ícones na ordem de 1 a 4 é :

- A) Pasta fechada, pasta aberta, Programas (Menu Iniciar), atalho para aplicativo (Windows Explorer)
- B) Pasta fechada, atalho para aplicativo (Windows Explorer), Programas (Menu Iniciar), pasta aberta
- C) Pasta aberta, atalho para aplicativo (Windows Explorer), Programas (Menu Iniciar), pasta fechada
- D) Pasta aberta, Programas (Menu Iniciar), atalho para aplicativo (Windows Explorer), pasta fechada


45. Em relação aos recursos do MS Word, é correto afirmar:

- A) Para justificar (alinhar à esquerda e à direita simultaneamente) um texto selecionado, basta clicar o botão  da barra de ferramenta de formatação.
- B) O botão  , localizado na barra de ferramenta de formatação, serve para realçar a cor de fundo das letras de um texto selecionado.
- C) O botão  da barra de ferramenta padrão serve para copiar um texto selecionado para a área de transferência.
- D) Para salvar o documento aberto corrente, basta clicar o botão  da barra de ferramenta padrão.

46. Em relação aos recursos do MS Word, é correto afirmar:

- A) O botão  , localizado na barra de ferramenta padrão, funciona como uma lupa que serve para aumentar o tamanho do texto selecionado.
- B) Após a colocação de cabeçalho e rodapé em um documento, é possível abrir a área de edição do cabeçalho ou rodapé, com um clique duplo sobre qualquer um deles.
- C) Clica-se o botão  da barra de ferramenta de formatação para numerar as páginas de um documento.
- D) Para aumentar o tamanho da fonte num texto selecionado, usa-se o atalho Ctrl+Alt+>

47. A respeito do MS Word, é correto afirmar:

- A) No menu Arquivo, os comandos Echegar e Sair se referem ao programa e ao documento respectivamente.
- B) O botão  da barra de ferramentas padrão serve para preencher a cor de fundo de uma palavra selecionada.
- C) O recurso de Ortografia e gramática pode ser acessado na opção Ferramentas da barra de menu.
- D) Na paginação de um documento, quando a primeira linha de um parágrafo fica isolada no final de uma página, é chamada de linha viúva.

48. O trecho de planilha ao lado mostra uma fórmula na célula **A5**. Esta fórmula foi copiada usando-se a alça de preenchimento para as células **B5**, **C5** e **D5**. Os valores obtidos para as células **B5**, **C5** e **D5** são, **respectivamente**:

	A5	fx =SOMA(A1:A3)			
	A	B	C	D	
1	10	20	30	10	
2	15	25	20	20	
3	30	30	40	30	
4	10	15	20	40	
5	55				

- A) 75, 90 e 60
- B) 15, 20 e 40
- C) 45, 50 e 30
- D) 55, 55 e 55

49. O procedimento correto para selecionar células ou faixa de células alternadamente no Excel é:

- A) manter pressionadas as teclas CTRL + SHIFT e selecionar as células ou faixas de células desejadas.
- B) manter pressionada a tecla SHIFT e selecionar as células ou faixas de células desejadas.
- C) manter pressionada a tecla ALT e selecionar as células ou faixas de células desejadas.
- D) manter pressionada a tecla CTRL e selecionar as células ou faixas de células desejadas.

50. Considere as seguintes afirmativas a respeito da Internet:

I	O Internet Explorer permite a definição da página inicial a ser apresentada quando ele é aberto.
II	Se o usuário estiver desconectado da Internet, sua caixa postal recusará o recebimento de mensagens que lhe forem destinadas.
III	O serviço que permite a visualização de <i>e-mail</i> através de um navegador é conhecido como Webmail.
IV	nome@codern.com.br é um exemplo hipotético de endereço válido para receber mensagens de correio eletrônico.

A opção em que todas as afirmativas são verdadeiras é:

- A) I, II e III
- B) I, III e IV
- C) I, II e IV
- D) II, III e IV